
 <p>C.P.E.I.P Sagrado Corazón de Jesús @ sacorje@cevsagradocorazonarucas.es WEB: sagradocorazonarucas.es</p>	<p>SALUDO</p>	 <p>Tfno. 928 60 10 36</p>
<p>C/ El Pino 3, CP 35400 (ARUCAS)</p>		

Querido alumno, querida alumna,

Deseo que todos estén bien y aprovechando esta oportunidad que nos brinda este mal momento para disfrutar en familia.

Como no queremos que pierdas el ritmo de trabajo espero que estés realizando las actividades cada semana, que leas mucho, no sólo el libro de lectura, sino que lo hagas por gusto, los libros son una maravillosa manera de vivir aventuras, de viajar... y así no dedicas tanto tiempo a la televisión ni a las máquinas.

Esperando que este mal sueño acabe y que nos volvamos a ver muy pronto, les mando un fuerte abrazo con muchísimo cariño.

Estebana



Nombre: _____

LENGUA 2º

Separa estas palabras en sílabas y copia en su sitio

película cine mancha oscuro
cruz cocina col chocolate
yo nombre naranja enfermero

una sílaba

dos sílabas

tres sílabas

cuatro sílabas

Usa las palabras que necesitas para completar estas frases

bandera bonito beso subir bajar

No podemos _____ en el ascensor.

Voy a _____ por la escalera.

Esta es la _____ de España.

Mi madre me da un _____.

Es un _____ ramo de flores.

Nombre: _____

LENGUA 2º



Completa estas palabras con bl, br

Ca__ito li__ero __usa fa__icante

__ando ca__a li__o fá__ica

li__ería ca__ero __anco ca__e

Escribe la frase contraria con el prefijo in o des de las palabras destacadas..

Ayer **colgué** los cuadros en esa pared.

Mi hermana **coloca** todos los juguetes cuando juega.

Me **ato** los zapatos cada mañana.

Los resultados de las operaciones son **correctos**.

Las noticias de las revistas a veces son **ciertas**.

Nombre: _____

LENGUA 2º



Comprensión lectora

La zorra y las uvas

Una zorra hambrienta, después de caminar mucho tiempo buscando con que saciar su voraz apetito, pasó casualmente por un huerto. Y, claro está, las succulentas uvas, grandes y jugosas, sobresaltaron su desfallecido estómago.

Al contemplar con ansias los espléndidos racimos, colgados de la parra, quiso cogerlos con su hocico. Pero, por más que se afanaba en sus saltos y esfuerzos, no pudo coger ni un racimo.

Después de varios intentos se alejó diciendo:

-¡No me gustan, qué verdes están! Y se fue sin mirar atrás.

1. ¿Cómo eran las uvas? _____

2. ¿Por qué quería comerse las uvas? _____

3. ¿Cómo intentó cogerlos? _____

4. ¿Qué problema tuvo la zorra? _____

5. ¿Por qué crees que la zorra dijo que no le gustaban? _____

6. ¿Qué mensaje nos da este texto? _____

Nombre: _____

LENGUA 2º



Ordena las palabras alfabéticamente:

casa familia tareas virus equipo amigos

1ª _____

2ª _____

3ª _____

4ª _____

5ª _____

6ª _____

Escribe el diminutivo y el aumentativo de estas palabras:

Diminutivo

Aumentativo

Dibujo _____

Bolsas _____

Pelota _____

Coches _____

Rodea de rojo el nombre individual y de azul el colectivo:

Rebaño gaviota cubertería ramo atún plato

Escribe una oración con un nombre individual y otra con uno colectivo:

Nombre: _____

LENGUA 2º



Une para formar oraciones y cópialas debajo.

Ellos	haces	poemas para ti.
Nosotros	cocinan	al parchís por la tarde.
Tú	escribo	la tarea a diario.
Yo	jugamos	la cena para todos.

Escribe una palabra que contenga la sílaba:

ga _____	go _____
gu _____	gue _____
gui _____	güe _____
güi _____	za _____
zu _____	zu _____
ce _____	ci _____
ca _____	co _____
cu _____	que _____
qui _____	que _____



Nombre: _____

MATEMÁTICAS 2º

En una finca hay 309 naranjos y 237 perales ¿Cuántos árboles hay?

DATOS	OPERACIÓN	SOLUCIÓN

En el jardín municipal había 460 plantas. Si se marchitaron 162 ¿Cuántas plantas quedan?

DATOS	OPERACIÓN	SOLUCIÓN

Los niños del colegio plantaron 254 pinos y 187 palmeras ¿Cuántos árboles plantaron?

DATOS	OPERACIÓN	SOLUCIÓN

En un palomar había 308 palomas. Si se echan a volar 59 palomas. ¿Cuántas quedan?

DATOS	OPERACIÓN	SOLUCIÓN

En la charcutería hay 39 kilos de salami , 24 kilos de jamón y 13 kilos de mortadela ¿Cuántos kilos de embutido hay?

DATOS	OPERACIÓN	SOLUCIÓN

Nombre: _____



Comenzamos a multiplicar con decenas.

Fíjate en el ejemplo y realiza las siguientes multiplicaciones.

$\begin{array}{r} 41 \\ \times 2 \\ \hline \end{array}$	Primero multiplico el 2 por la unidad.	$\begin{array}{r} 41 \\ \times 2 \\ \hline 2 \end{array}$	Luego multiplico el 2 por la decena	$\begin{array}{r} 41 \\ \times 2 \\ \hline 82 \end{array}$
---	--	---	-------------------------------------	--

22	14	17	20	23	21
$\times 2$	$\times 1$	$\times 1$	$\times 2$	$\times 3$	$\times 2$

40	47	89	34	22	44
$\times 2$	$\times 1$	$\times 1$	$\times 2$	$\times 3$	$\times 2$


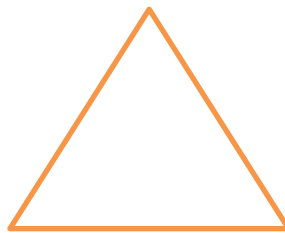
Colorea las figuras con el color que se indica.

Cuadrado – rojo

Rombo – azul

Círculo – verde

Rectángulo – amarillo





Nombre: _____

MATEMÁTICAS 2º

191	146	214	278	259
<u>+406</u>	<u>+406</u>	<u>+ 406</u>	<u>+460</u>	<u>+460</u>

435	435	435	435	435
<u>-366</u>	<u>-250</u>	<u>-357</u>	<u>-208</u>	<u>-196</u>

Sigue la serie de 3 en 3.

400	403								

Escribe anterior y posterior.

_____ 170 _____ _____ 871 _____

_____ 219 _____ _____ 417 _____

Descomponer.

170: _____

219: _____

871: _____

417: _____

Nombre: _____

MATEMÁTICAS 2º



Separar en centenas, decenas y unidades (c, d, u).

170: _____

219: _____

871: _____

417: _____

Escribe el número.

$$2c + 4d + 8u = \underline{\hspace{2cm}}$$

$$6c + 2d + 6u = \underline{\hspace{2cm}}$$

$$1c + 0d + 9u = \underline{\hspace{2cm}}$$

$$3c + 1d + 7u = \underline{\hspace{2cm}}$$

$$8c + 7d + 0u = \underline{\hspace{2cm}}$$

$$7c + 3d + 3u = \underline{\hspace{2cm}}$$

Escribe con letra.

854: _____

305: _____

717: _____

680: _____

413: _____

548: _____

149: _____

Cálculo mental. Completa el sumando que falta.

$$13 + \underline{\hspace{1cm}} = 22$$

$$15 + \underline{\hspace{1cm}} = 22$$

$$28 + \underline{\hspace{1cm}} = 32$$

$$45 + \underline{\hspace{1cm}} = 52$$

$$44 + \underline{\hspace{1cm}} = 52$$

$$55 + \underline{\hspace{1cm}} = 62$$

Nombre: _____

MATEMÁTICAS 2º



Escribe el doble y el triple de cada número.

Doble		Triple
	2	
	4	
	3	
	10	
	20	

Sigue la serie de 2 en 2, descendente.

500	498								

Suma y resta horizontalmente:

$143 + 190 = \underline{\hspace{2cm}}$

$400 - 258 = \underline{\hspace{2cm}}$

$149 + 147 = \underline{\hspace{2cm}}$

$400 - 229 = \underline{\hspace{2cm}}$

$145 + 178 = \underline{\hspace{2cm}}$

$400 - 207 = \underline{\hspace{2cm}}$

$147 + 109 = \underline{\hspace{2cm}}$

$400 - 226 = \underline{\hspace{2cm}}$

$148 + 180 = \underline{\hspace{2cm}}$

$400 - 217 = \underline{\hspace{2cm}}$

Nombre: _____

NATURALES 2°



Completa.

Los seres humanos realizamos tres funciones vitales:

Relación Nutrición Reproducción

Mediante la función de _____ obtenemos energía de los alimentos para crecer y llevar a cabo las actividades diarias. Por medio de la función de _____ obtenemos información del entorno a través de los sentidos y reaccionamos ante ella. Con la función de _____ podemos tener hijos semejantes a nosotros.

Escribe una oración en la que se vea cada una.

Por ejemplo. Sofía tenía frío y se puso un abrigo.

Relación _____

Nutrición _____

Reproducción _____

Escribe a qué aparato pertenecen estos órganos:

Corazón nariz venas pulmones

Vejiga boca riñones estómago

Aparato digestivo: _____

Aparato excretor: _____

Aparato circulatorio: _____

Aparato respiratorio: _____

Nombre: _____ NATURALES 2°

Escribe V si es verdadero y F si es falso:

Cuando te miras al espejo puedes verte los huesos. _____

Cuando sonríes, se mueven los músculos de tu cara. _____

Necesitamos descansar para estar sanos. _____

Los huesos forman la musculatura. _____

Une con la columna central:

Fémur	Cabeza	Bíceps
Húmero	Tronco	Masetero
Cráneo	Brazos	Gemelos
Costillas	Piernas	Abdominales




Nombre: _____

NATURALES 2°



Colorea y recorta el puzzle. Puedes jugar con él o pegarlo en un folio.



Nombre: _____

SOCIALES 2°



Por una buena convivencia.

Completa con las palabras que faltan.

derechos

obligaciones

normas

convivir

Las personas tenemos derechos, _____ y se crean _____ para que todo funcione en los distintos lugares. Para poder _____, hay que respetar los _____ de los demás.

Escribe dos normas que siguen las personas en la calle.

Escribe dos normas que te ayudan a mantener tu cuerpo sano y limpio.

Escribe dos normas que hay en tu familia y dos que hay en tu colegio.

Nombre: _____

SOCIALES 2º



Escribe V si es verdadero y F si es falso.

_____ Los niños no tienen derechos.

_____ Los mayores tienen obligaciones.

_____ Los niños tienen obligaciones.

_____ Los mayores no tienen derecho.

Dibuja un paisaje rural con tres elementos humanizados.

A large empty rectangular box with a black border, intended for drawing a rural landscape with three humanized elements. A faint watermark 'ORAZÓN DE JESÚS' is visible diagonally across the page.

Nombre: _____

INGLÉS 2º



Read, find and circle.

EASTER

F	U	C	H	I	C	K	E	N	N	BASKET
L	Ñ	F	Y	C	C	W	C	G	Ñ	CHICKEN
O	S	D	C	D	O	Q	H	W	B	CHOCOLATE
W	K	R	G	Y	L	P	O	E	T	COLOURS
E	B	A	Ñ	B	O	K	C	A	B	EASTER
R	A	B	R	Q	U	W	O	S	H	EGG
S	S	B	Q	A	R	E	L	T	F	FLOWERS
V	K	I	X	Y	S	G	A	E	Q	RABBIT
X	E	T	X	R	U	G	T	R	U	
J	T	U	Ñ	G	D	Z	E	Z	I	

kokolikoko.com

Spot 5 differences!



Nombre: _____

INGLÉS 2º



Nombre: _____

RELIGIÓN 2º



El lavatorio de pies

Completa con las palabras correspondientes.

lavar los pies toalla agua mesa

“Mientras cenaban, Jesús se levantó de la _____,
se quitó el manto, cogió una _____ y echó
_____ en una palangana.

Comenzó a _____ de
sus discípulos y a secárselos con una toalla”.

Siguiendo el código secreto y completa la frase.

1-n 2-i 3-b 4-s 5-m 6-e
7-r 8-d 9-u *-y #-a

#*98#7 a los 865#4 nos hace sentir 3261

Nombre: _____

RELIGIÓN 2º



SEMANA SANTA



©2015 - Leonan Paro. Todos os direitos reservados.

www.amiguinhosdedeus.com

www.amiguinhosdedeus.com

www.amiguinhosdedeus.com

Nombre: _____

RELIGIÓN 2º



Colorea, recorta y construye un nazareno .

