

 <p>C.P.E.I.P Sagrado Corazón de Jesús @ sacorje@cevsagradocorazonarucas.es WEB: sagradocorazonarucas.es</p>	<h2>SALUDO</h2>	 <p>Tfno. 928 60 10 36</p>
<p>C/ El Pino 3, CP 35400 (ARUCAS)</p>		

¡Hola chicos!

Espero que tanto ustedes como su familia se encuentren bien, y que en estos momentos tan especiales y difíciles estés haciendo lo posible para hacer más llevaderos estos días.

Para esta semana te propongo leer el libro de la biblioteca de aula que te llevaste a casa los últimos días. Si ya lo has acabado, ámate a leer otro que puedas tener. Y para hacer más divertido esa actividad te propongo hacer un marcador de lectura. Aquí te dejo unos enlaces para que veas cómo hacerlos. Espero que te gusten:

- 📖 Marcapáginas emojis: <https://www.youtube.com/watch?v=3pZlkw1Uoa0>
- 📖 Marcapáginas kawai: <https://www.youtube.com/watch?v=bN1SXR95XX4>
- 📖 Pokemon: <https://www.youtube.com/watch?v=4uRKCOYsPnM>
- 📖 Panda, zorro y conejo:

<https://www.youtube.com/watch?v=qkWjzDwblwU>

- 📖 Superhéroes: <https://www.youtube.com/watch?v=NHdt9Nxfp8>
- 📖 Kawaii: https://www.youtube.com/watch?v=NvIPRM-ol_s

Además, debes seguir haciendo las copias semanales y operaciones matemáticas para que no pierdas el ritmo. Recuerda que sería conveniente repasar las tablas de multiplicar.

También te adjunto un enlace con juegos para reforzarlas de manera lúdica.

- 📖 Tabla del 9: https://es.educaplay.com/recursos-educativos/5320684-tabla_de_multiplicar_del_9.html
- 📖 Juegos Tablas de multiplicar: <https://www.tablasdemultiplicar.com/juegos/>

Aparte de todo esto, tienes fichas de las diferentes asignaturas en pdf y otras interactivas.

Por último, te reto a hacer un rosco del pasapalabra de Ciencias Naturales que he creado especialmente para ti. ¿¿¿Te atreves a hacerlo???

<https://es.educaplay.com/recursos-educativos/5271321-matematicas.html>

¡Ánimo! Ya queda menos para que nos podamos ver. Cuídate.

Un abrazo grande,

Isabel.

 <p>C.P.E.I.P. Sagrado Corazón de Jesús @ sacorje@cevsagradocorazonarucasur.es WEB: sagradocorazonarucas.es</p>	<p>FICHA: CÁLCULO 4º PRIMARIA</p>	 <p>Tfno. 928 60 10 36</p>
<p>C/ El Pino 3, CP 35400 (ARUCAS)</p>		

Nombre: _____

I.- Coloca y calcula. Después rodea en el resultado con color rojo las unidades.

$$23,458 + 350,96 + 1,3 =$$

$$15,62 + 3,475 + 20,733 =$$

$$456,23 - 34,7 =$$

$$13,04 - 6,528 =$$

$$1,236 \times 2,6 =$$

$$89,56 \times 394 =$$

$$127,34 : 7$$

$$208,912 : 5$$

$$4233 : 6 \quad (\text{saca 2 decimales})$$

$$65538 : 9 \quad (\text{saca 2 decimales})$$

$374,28 + 5,013 + 1541 =$

$4365,987 + 79,34 + 51,643 =$

$25014,3 - 47,12 =$

$63021,9 - 91,513 =$

$261,805 \times 5,2 =$

$5,28 \times 3,6 =$

$6470,51 : 4$



$840,752 : 6$

$9103 : 7 \text{ (saca 2 decimales)}$

$74531 : 8 \text{ (saca 2 decimales)}$

Juegos interactivos de divisiones con decimales:

<http://lapandilladelarejilla.es/juegos-divisiones/>

 <p>C.P.E.I.P. Sagrado Corazón de Jesús @ sacorje@cevsagradocorazonarucasur.es WEB: sagradocorazonarucas.es</p>	FICHA: PROBLEMAS 4º PRIMARIA	 <p>Tfno. 928 60 10 36</p>
--	---	---

Nombre: _____

A Gabriela ha comprado 7,5 kg de pienso para gatos y de pienso de perros ha comprado el triple ¿Cuántos kilos de pienso para perros ha comprado?

datos	operación	solución

Paloma quiere comprar unas zapatillas que cuestan 45 euros. Ella tiene 36,85 € y su amiga Patricia le presta 6,70 €. ¿Cuánto dinero le falta todavía para poder comprar las zapatillas?

datos	operación	solución

6) En el depósito de una planta envasadora hay 547,43 litros de batido de chocolate para envasarlo en cartones de 3 litros. ¿Cuántos cartones se envasarán?

datos	operación	solución

Blanca ha pagado en la Multi-tienda 6,80 € por 2 bolígrafos, 1 cuaderno y 1 estuche de pinturas. Si el cuaderno vale 1,34 € y el estuche el triple del cuaderno. ¿Cuánto vale cada bolígrafo?

datos	operación	solución

Miguel Ángel ha comprado en Juegos épicos 2 juegos por 81,45 € en total. El primero le ha costado 32,95 €. Calcula el valor del segundo juego.

datos	operación	solución



C.P.E.I.P Sagrado Corazón de Jesús
 @ sacorje@cevsagradocorazonarucas.es
 WEB: sagradocorazonarucas.es

FICHA: LA MATERIA
 4º PRIMARIA




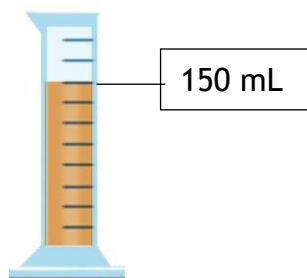

C/ El Pino 3, CP 35400 (ARUCAS)

Tfno. 928 60 10 36

Nombre: _____

- Vídeo de mezclas y separaciones: <https://www.youtube.com/watch?v=2FPaXer7AN0>
- Vídeo de métodos para separar mezclas: <https://www.youtube.com/watch?v=aRMr891Vb54>

1. ¿Cuál es el volumen y la masa de este zumo?



Volumen:

Masa:

2. Completa el esquema.

La materia se presenta en forma de

Sustancias



Mezclas

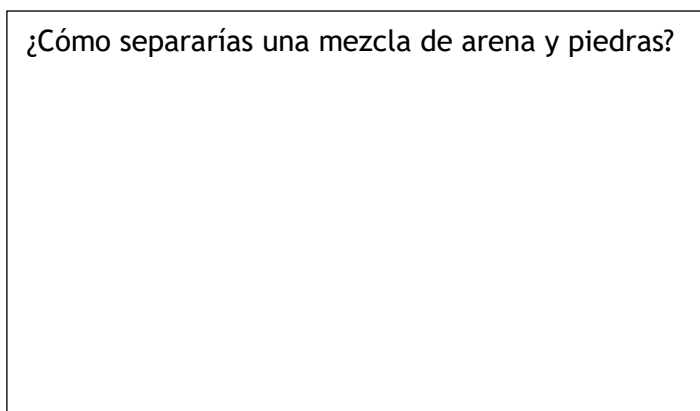


3. Relaciona los métodos de separación de mezclas con los tipos de mezclas.

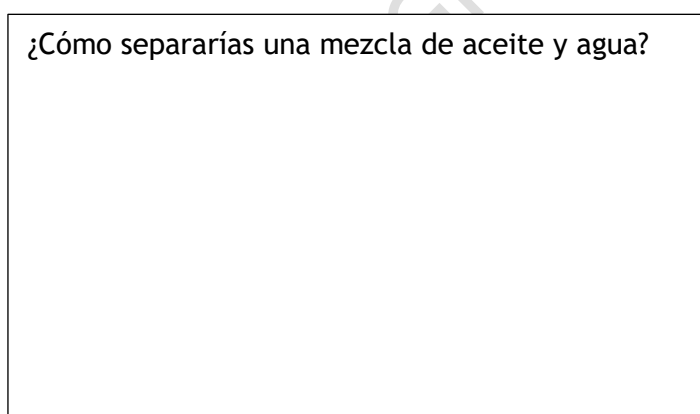
- Tamizado •
- Destilación •
- Filtración •
- Evaporación •
- Mezcla homogénea •
- Mezcla heterogénea •

3. Piensa y dibuja:

¿Cómo separarías una mezcla de arena y piedras?



¿Cómo separarías una mezcla de aceite y agua?



Ficha interactiva La materia y los materiales:

https://es.liveworksheets.com/worksheets/es/Ciencias_de_la_Naturaleza/La_materia/La_materia_y_los_materiales_pk17508da



C.P.E.I.P Sagrado Corazón de Jesús
 @ sacorje@cevsagradocorazonarucas.es
 WEB: sagradocorazonarucas.es

FICHA: LA ESPAÑA VACIADA
 4º PRIMARIA



C/ El Pino 3, CP 35400 (ARUCAS)

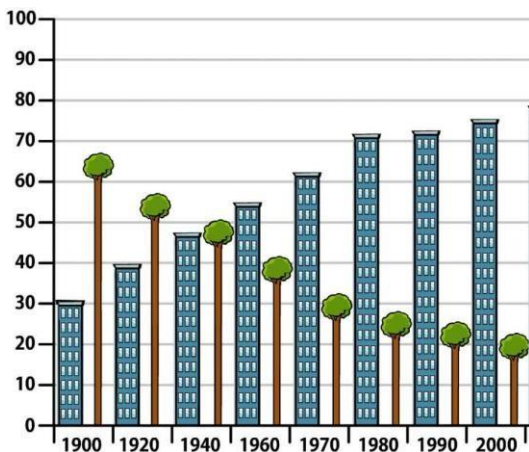
Tfno. 928 60 10 36

Nombre: _____



Tradicionalmente, la población española se ha distribuido de forma muy diferente en la costa y en el interior. La costa siempre ha estado más poblada que el interior, y son más frecuentes las ciudades grandes en las que residen muchas personas. En el interior, menos poblado, hay más municipios pequeños, que poseen un amplio territorio, y son menos frecuentes las grandes ciudades.

Con el desarrollo de la industria, a partir de los años cincuenta y sesenta del siglo XX, se produjo un gran movimiento de población rural desde los pueblos hacia las ciudades, y desde el interior hacia la costa. Las ciudades crecían rápidamente, por lo que se generaban muchas oportunidades de trabajo.



1. Investiga en tu familia si alguno de tus abuelos, padres o algún familiar fue a vivir a la ciudad desde el mundo rural, o, al contrario. ¿Por qué se trasladaron? ¿Qué buscaban ahí que no pudieran encontrar en el lugar en el que vivían?

.....

.....

.....

.....

.....



C.P.E.I.P Sagrado Corazón de Jesús
 @ sacorje@cevsagradocorazonarucas.es
 WEB: sagradocorazonarucas.es

FICHA 4: SÍMBOLOS DE SEMANA SANTA 4º PRIMARIA



C/ El Pino 3, CP 35400 (ARUCAS)

Tfno. 928 60 10 36

Nombre: _____

*Esta ficha se puede hacer interactiva en: <https://es.liveworksheets.com/ga60059uo>

1.- Lee.

SIMBOLOS DE SEMANA SANTA

Las palmas y ramos.

Son símbolos de victoria. Cuando Jesús llegó a Jerusalén, montado en un burro, fue recibido por una multitud de personas que entonaban cantos y tenían consigo palmas o ramos con el fin de saludar y felicitar al mesías. De allí, que el Domingo de Ramos los feligreses busquen y bendigan en la misa una hoja de palma o ramo, el cual, tradicionalmente, acostumbran a colocar en las casas a modo de protección religiosa.



El pan y el vino



El pan y el vino simbolizan la vida eterna, el cuerpo y sangre de Jesucristo que fue ofrecido a sus discípulos en la Última Cena. También simbolizan la unión de los fieles con su fe cristiana.

El pan representa el cuerpo de Jesucristo entregado a su pueblo, quien lo coma tendrá la vida eterna. El vino simboliza la sangre que derramó Jesucristo por su pueblo, a quien beba de su sangre le serán perdonados sus pecados.

El Jueves Santo se realiza la misa Vespertina de la Cena del Señor, en cuya eucaristía se hace mención del simbolismo del pan y el vino como el cuerpo y sangre que Jesucristo ofreció a la humanidad.

La cruz

Para los cristianos la cruz tiene un significado muy valioso, ya que, simboliza tanto el sufrimiento, pasión y sacrificio de Jesucristo por la humanidad como, la salvación, reconciliación y unión con Jesucristo. La cruz es el principal símbolo de la fe e Iglesia Católica.

El Viernes Santo se presenta la Cruz para recordar y agradecer el sacrificio que hizo Jesucristo para limpiar los pecados del mundo.



Cirio Pascual



El Cirio Pascual representa la muerte y resurrección de Jesucristo, la luz y la vida del mundo. El Cirio Pascual es una vela de gran tamaño, de color blanco que tiene grabadas las letras griegas Alfa y Omega, que significan que Dios es el principio y fin de todo.

El fuego que se emplea para encender el Cirio Pascual deriva de las velas encendidas durante la Vigilia Pascual. El fuego del Cirio Pascual es nuevo que renueva la fe, de este

fuego, además, se encienden el resto de las velas. Este fuego representa a Jesucristo resucitado y vencedor de las sombras y tinieblas.

2.- Une los símbolos de la Semana Santa con el día con el que se relaciona:

Domingo de Ramos	Palma de olivo
Domingo de Resurrección	Cruz
Viernes Santo	Cirio Pascual
Jueves Santo	Pan y vino

3. Elige la opción correcta, decidiendo qué día se celebra lo que se te indica:

Celebramos la última cena de Jesús

Celebramos que Jesús ha resucitado y vive para siempre

Celebramos la muerte de Jesús en la cruz por nosotros

Celebramos la entrada de Jesús en Jerusalén.