









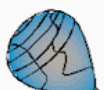













NOMBRE:

1. ESTOS SON LOS JUGUETES PREFERIDOS DE LOS NIÑOS Y NIÑAS DE PRIMERO DE PRIMARIA.

| | | | | | | |
|---|---|---|---|--|---|---|
|  |  |  |  |  |  |  |
|  |  |  |  |  |  |  |
|  |  |  |  |  |  |  |

2. COLOREA UN CUADRO POR CADA JUGUETE QUE CONTASTE Y REALIZA EL GRÁFICO DE BARRAS.



NOMBRE:.....

1. Completa la tabla y resuelve.

| | | | | | | | | | |
|----|----|----|----|----|----|----|----|----|-----|
| 1 | 2 | | | 5 | 6 | 7 | 8 | 9 | 10 |
| | 12 | 13 | | 15 | | | 18 | | |
| 21 | | | 24 | | | 27 | | | 30 |
| | | 33 | | | 36 | | | 39 | 40 |
| 41 | | | 44 | 45 | | | 48 | | |
| | 52 | | | | 56 | 57 | | 59 | 60 |
| 61 | | 63 | | | | | 68 | | 70 |
| | | | 74 | | 76 | | | 79 | 80 |
| | 82 | | | 85 | | 87 | | | |
| 91 | | 93 | | | | | | 99 | 100 |

- Rodea el número con 4 D y 5 U.
- Colorea de azul los números con 3 D.
- Colorea de verde los números con 6 U.
- Colorea de rojo los números con 0 unidades.
- Tacha el número siguiente a 99.

NOMBRE:

1 Une.

palmo



pie



paso



2 ¿Cuánto mide la puerta de tu habitación? Completa.


• Mide palmos.

• Mide pies.

• Mide pasos.



3 ¿Cómo los medirías? Escribe: palmo, pie o paso.



.....
.....
.....

.....
.....
.....

.....
.....
.....

NOMBRE:.....

1. SIGUE LAS INDICACIONES Y LLEGA DESDE EL CÍRCULO AL CORAZÓN.

3 →

2 ↓



4 →

2 ↓

1 ←

1 ↓

2 →

| | | | | | | | | | |
|---|--|--|--|--|--|--|--|--|---|
|  | | | | | | | | | |
| | | | | | | | | | |
| | | | | | | | | | |
| | | | | | | | | | |
| | | | | | | | | | |
| | | | | | | | | |  |

NOMBRE:.....

1. CALCULA.

$$\begin{array}{r} 22 \\ + 31 \\ \hline \end{array}$$

$$\begin{array}{r} 65 \\ + 7 \\ \hline \end{array}$$

$$\begin{array}{r} 47 \\ + 31 \\ \hline \end{array}$$

$$\begin{array}{r} 14 \\ + 62 \\ \hline \end{array}$$

$$\begin{array}{r} 84 \\ + 11 \\ \hline \end{array}$$

$$\begin{array}{r} 47 \\ + 12 \\ \hline \end{array}$$

$$\begin{array}{r} 16 \\ + 22 \\ \hline \end{array}$$

$$\begin{array}{r} 78 \\ + 11 \\ \hline \end{array}$$

2. ESCRIBE EL ANTERIOR Y EL POSTERIOR.

_____ **23** _____

_____ **17** _____

_____ **38** _____

_____ **7** _____

_____ **44** _____

_____ **39** _____

_____ **61** _____

_____ **78** _____

3. ORDENA LOS SIGUIENTES NÚMEROS DE MAYOR A MENOR.

9 14 68 36 59 40

| | | | | | |
|--|--|--|--|--|--|
| | | | | | |
|--|--|--|--|--|--|

Nombre:.....

1. José tiene en su estuche 26 lápices de colores. Y sus papás le regalan 12 lápices más. ¿Cuántos lápices tiene José en total?

| DATOS | OPERACIÓN | SOLUCIÓN |
|-------|-----------|----------|
| | | |

2. Tengo 30 estampas de Pokémon y mi abuelo me compra 25 estampas más. ¿Cuántas estampas tengo en total?

| DATOS | OPERACIÓN | SOLUCIÓN |
|-------|-----------|----------|
| | | |

3. En la caja de juguetes de María hay 25 juguetes. Le regala a su prima 12 juguetes y así compartir. ¿Cuántos juguetes le quedan a María?

| DATOS | OPERACIÓN | SOLUCIÓN |
|-------|-----------|----------|
| | | |

4. Mis papás han comprado 45 naranjas en el supermercado. Y nos hemos comido 11. ¿Cuántas naranjas nos quedan?

| DATOS | OPERACIÓN | SOLUCIÓN |
|-------|-----------|----------|
| | | |