



C.P.E.I.P. Sagrado Corazón de Jesús
@ sacorje@cevsagradocorazonarucasur.es
WEB: sagradocorazonarucas.es

MATEMÁTICAS

C/ El Pino 3, CP 35400 (ARUCAS)



Nombre:

1. Realiza las siguientes sumas.

$$\begin{array}{r} 54 \\ + 23 \\ \hline \end{array}$$

$$\begin{array}{r} 38 \\ + 21 \\ \hline \end{array}$$

$$\begin{array}{r} 25 \\ + 64 \\ \hline \end{array}$$

$$\begin{array}{r} 56 \\ + 35 \\ \hline \end{array}$$

$$\begin{array}{r} 41 \\ + 17 \\ \hline \end{array}$$

$$\begin{array}{r} 38 \\ + 11 \\ \hline \end{array}$$

$$\begin{array}{r} 76 \\ + 11 \\ \hline \end{array}$$

$$\begin{array}{r} 36 \\ + 23 \\ \hline \end{array}$$

2. Realiza las siguientes restas.

$$\begin{array}{r} 76 \\ - 12 \\ \hline \end{array}$$

$$\begin{array}{r} 62 \\ - 60 \\ \hline \end{array}$$

$$\begin{array}{r} 39 \\ - 28 \\ \hline \end{array}$$

$$\begin{array}{r} 58 \\ - 45 \\ \hline \end{array}$$

$$\begin{array}{r} 82 \\ - 71 \\ \hline \end{array}$$

$$\begin{array}{r} 22 \\ - 02 \\ \hline \end{array}$$

$$\begin{array}{r} 28 \\ - 24 \\ \hline \end{array}$$

$$\begin{array}{r} 58 \\ - 04 \\ \hline \end{array}$$



MATEMÁTICAS



C.P.E.I.P. Sagrado Corazón de Jesús
@ sacorje@cevsagradocorazonarucasur.es
WEB: sagradocorazonarucas.es

C/ El Pino 3, CP 35400 (ARUCAS)

Tfno. 928 60 10 36

Nombre:.....

¿Qué recipiente puede contener menos líquido? Rodea uno.



¿Qué recipiente puede contener más líquido? Rodea uno.



¿Qué recipiente es el que más líquido puede contener? Rodea uno.



¿Qué recipiente es el que menos líquido puede contener? Rodea uno.





MATEMÁTICAS






C.P.E.I.P Sagrado Corazón de Jesús
@ sacorje@cevsagradocorazonarucasur.es
WEB: sagradocorazonarucas.es

C/ El Pino 3, CP 35400 (ARUCAS)

Tfno. 928 60 10 36

Nombre:.....


Colorea el número más grande.





Nombre:

GRÁFICO DE BARRAS



COLOREA UN CUADRO POR CADA DINOSAURIO DE ESE TIPO QUE APARECE EN EL CUADRO DE ARRIBA.

6						
5						
4						
3						
2						
1						



MATEMÁTICAS



C.P.E.I.P. Sagrado Corazón de Jesús
@sacorje@cevsagradocorazonarucas.es
WEB: sagradocorazonarucas.es

C/ El Pino 3, CP 35400 (ARUCAS)

Tfno. 928 60 10 36

Nombre:.....

1. Marcos tiene 72 patitos de plástico y su papá le compra 17 patitos más. ¿Cuántos patitos tiene ahora?

DATOS	OPERACIÓN	SOLUCIÓN

2. María tiene 99 flores y le regala a su mamá por su cumpleaños 34 flores. ¿Cuántas les quedan ahora?

DATOS	OPERACIÓN	SOLUCIÓN

3. Carla tiene 28 pelotas de playa y le regalan 29 pelotas más. ¿Cuántas pelotas de playa tiene ahora?

DATOS	OPERACIÓN	SOLUCIÓN

4. Si tienes 43 caramelos y te comes 11. ¿Cuántos te quedan ahora?

DATOS	OPERACIÓN	SOLUCIÓN