



C.P.E.I.P Sagrado Corazón de Jesús
 @sacorje@cevsagradocorazonarucasur.es
 WEB: sagradocorazonarucas.es



PC. 03 ATENCIÓN A LA DIVERSIDAD
 AULA DE APOYO A LAS NEAE.
 4º EDUCACIÓN PRIMARIA



C/ El Pino 3, CP 35400 (ARUCAS)

Tfno. 928 60 10 36

GRAMÁTICA/FUNCIONES EJECUTIVAS/ESCRITURA CREATIVA

23 de abril



¡NO HACE FALTA IMPRIMIR!
 ¡PUEDES HACER LAS ACTIVIDADES EN UN
 CUADERNO O FOLIO QUE TENGAS EN
 CASA!



ORTOGRAFÍA: EL VERBO

COMPLETA CON LA FORMA VERBAL ADECUADA.

• El próximo sábado _____ todo el día.

llueve lloverá llovía

• Tú y tus hermanos _____ mis mejores amigos.

eres son habéis sido

• Ayer _____ al cine con mi hermano.

fuí vamos fueron

• Los caballos _____ muy rápido.

cabalgaremos he cabalgado cabalgaban

• Yo _____ una tarta para el postre.

comprasteis compramos he comprado

• El domingo pasado _____ al campo con sus amigos.

salieron saldríamos saldréis



C.P.E.I.P Sagrado Corazón de Jesús
 @sacorje@cevsagradocorazonarucasur.es
 WEB: sagradocorazonarucas.es



PC. 03 ATENCIÓN A LA DIVERSIDAD
 AULA DE APOYO A LAS NEE.
 4º EDUCACIÓN PRIMARIA



C/ El Pino 3, CP 35400 (ARUCAS)

Tfno. 928 60 10 36

GRAMÁTICA/FUNCIONES EJECUTIVAS/ESCRITURA CREATIVA

- El profesor _____ un problema nuevo.

expliqué

ha explicado

explicabais

- Los pájaros _____ un nido en el tejado.

construyen

construirás

construimos

- Luis y yo _____ un partido el próximo viernes.

jugábamos

juego

jugaremos



- Mi madre _____ en un despacho de abogados.

han trabajado

trabajabas

trabaja

- Tú y tu hermana _____ flores a vuestra madre.

regalamos

regalará

habéis regalado

- Juan, tú _____ el primero en la carrera de relevos.

corría

correrás

habías corrido



- Los bocadillos de atún _____ los más ricos.

son

eres

será

- El invierno pasado _____ mucho.

nevaría

nevó

nieva

- Mis padres y yo _____ en un bonito barco.

hemos navegado

navegáis

navegaré





C.P.E.I.P Sagrado Corazón de Jesús
 @sacorje@cevsagradocorazonarucas.es
 WEB: sagradocorazonarucas.es



PC. 03 ATENCIÓN A LA DIVERSIDAD
 AULA DE APOYO A LAS NEE.
 4º EDUCACIÓN PRIMARIA



C/ El Pino 3, CP 35400 (ARUCAS)

Tfno. 928 60 10 36

GRAMÁTICA/FUNCIONES EJECUTIVAS/ESCRITURA CREATIVA

• María te _____ un regalo sino lloraras. Orientación
Analógica

compró comprabas compraría

• Las leonas _____ durante todo el día.

habrían cazado han cazado cazará

• Tú y tus compañeras _____ un libro de poesía durante el verano.

leeréis leíamos lean

TRABAJAMOS ATENCIÓN, PERCEPCIÓN VISUAL Y ORIENTACIÓN ESPACIAL.

Ej:

La a va con la figura con el color lila (celeste, amarillo y rojo)

1 Une las imágenes correspondientes a los mismos modelos

A

B

C

D

E

F



C.P.E.I.P Sagrado Corazón de Jesús
 @sacorje@cevsagradocorazonarucasur.es
 WEB: sagradocorazonarucas.es



PC. 03 ATENCIÓN A LA DIVERSIDAD
 AULA DE APOYO A LAS NEAE.
 4º EDUCACIÓN PRIMARIA



C/ El Pino 3, CP 35400 (ARUCAS)

Tfno. 928 60 10 36

GRAMÁTICA/FUNCIONES EJECUTIVAS/ESCRITURA CREATIVA

3

Une las imágenes correspondientes a los mismos modelos





C.P.E.I.P Sagrado Corazón de Jesús
 @sacorje@cevsagradocorazonarucasur.es
 WEB: sagradocorazonarucas.es

PC. 03 ATENCIÓN A LA DIVERSIDAD
 AULA DE APOYO A LAS NEE.
 4º EDUCACIÓN PRIMARIA



C/ El Pino 3, CP 35400 (ARUCAS)

Tfno. 928 60 10 36

GRAMÁTICA/FUNCIONES EJECUTIVAS/ESCRITURA CREATIVA

Lee.

p	q	q	b	d	p	q	b
d	q	p	b	d	p	q	d
d	b	p	q	b	p	d	d
b	p	q	q	p	d	b	b
d	p	b	q	q	p	b	d
p	b	q	q	p	p	d	b
d	p	b	d	q	p	d	b

Colorea cada letra de su color.

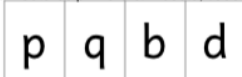
Escribe la cantidad que has coloreado.

1 2 3

p =
b =
q =
d =

aulapt.org

Pinta cada letra de su color. Colorea primero el modelo, cada letra de un color.




q	p	b	d	p	p	d	d	q	q
b	d	q	p	p	q	d	b	d	b
p	q	b	b	q	p	d	d	q	b
q	p	d	q	q	p	d	b	q	d
d	p	q	b	d	q	p	p	q	d

¿Cuántos has encontrado de cada figura? Cuéntalos y escribe la cantidad.

p =
b =
d =
q =

Pinta cada figura de su color. Colorea primero el modelo, cada figura de un color.



¿Cuántos has encontrado de cada figura? Cuéntalos y escribe la cantidad.

=
 =
 =
 =
 =

=
 =
 =
 =
 =



C.P.E.I.P Sagrado Corazón de Jesús
@sacorje@cevsagradocorazonarucasur.es
WEB: sagradocorazonarucas.es



PC. 03 ATENCIÓN A LA DIVERSIDAD
AULA DE APOYO A LAS NEAE.
4º EDUCACIÓN PRIMARIA



C/ El Pino 3, CP 35400 (ARUCAS)

Tfno. 928 60 10 36

GRAMÁTICA/FUNCIONES EJECUTIVAS/ESCRITURA CREATIVA



ESPEJITO MÁGICO, ¿QUIÉN ES LA MÁS BELLA DEL REINO? Como habrás podido adivinar se trata de la bruja mala de “Blancanieves y los siete enanitos”. Tendrás que escribir ahora el cuento tal y como tú lo conoces.

YA FALTA MENOS PARA VOLVERNOS A ENCONTRAR, UN ABRAZO, DAVINIA



C.P.E.I.P Sagrado Corazón de Jesús
 @sacorje@cevsagradocorazonarucas.es
 WEB: sagradocorazonarucas.es



PC. 03 ATENCIÓN A LA DIVERSIDAD
 AULA DE APOYO A LAS NEAE.
4º CURSO DE EDUCACIÓN PRIMARIA



C/ El Pino 3, CP 35400 (ARUCAS)

Tfno. 928 60 10 36

RAZONAMIENTO MATEMÁTICO

23 de abril



**¡NO HACE FALTA IMPRIMIR!
 ¡PUEDES HACER LAS ACTIVIDADES EN UN
 CUADERNO O FOLIO QUE TENGAS EN
 CASA!**




Para hoy
 Sonreír, agradecer, pensar cosas buenas,
 tener esperanza y fe; pero sobre todo...

¡Mantener el corazón lleno de
 cosas bonitas!

1. Efectúa estas operaciones y únelas con su resultado.

95x13	74x51	143x25	232x67
-------	-------	--------	--------



3.575	1.235	15.544	3.774
-------	-------	--------	-------



C.P.E.I.P Sagrado Corazón de Jesús
 @sacorje@cevsagradocorazonarucasur.es
 WEB: sagradocorazonarucas.es



PC. 03 ATENCIÓN A LA DIVERSIDAD
 AULA DE APOYO A LAS NEAE.
4º CURSO DE EDUCACIÓN PRIMARIA



C/ El Pino 3, CP 35400 (ARUCAS)

Tfno. 928 60 10 36

RAZONAMIENTO MATEMÁTICO

2. Completa esta tabla.

x	20	200	2000
12	$12 \times 20 = 240$	$12 \times 200 = 2.400$	$12 \times 2000 = 24.000$
32			
40			

3. Resolvemos problemas.

1. En un almacén hay 14.329 cajas de fruta. Si se vendieron 4.567, ¿cuántas cajas de fruta quedan?

Datos	Operación	Respuesta.

2. Los 18 alumnos de la clase de Raúl quieren formar grupos para hacer murales. ¿Cuántos equipos con el mismo número de alumnos pueden formar?

Datos	Operación	Respuesta.

3. El número de habitantes que tiene el pueblo de Jorge es 4 veces mayor que hace diez años. Si entonces había 9.356 habitantes, ¿cuántas personas viven ahora en el pueblo de Jorge?

Datos	Operación	Respuesta.



C.P.E.I.P Sagrado Corazón de Jesús
 @sacorje@cevsagradocorazonarucasur.es
 WEB: sagradocorazonarucas.es



PC. 03 ATENCIÓN A LA DIVERSIDAD
 AULA DE APOYO A LAS NEAE.
4º CURSO DE EDUCACIÓN PRIMARIA



C/ El Pino 3, CP 35400 (ARUCAS)

Tfno. 928 60 10 36

RAZONAMIENTO MATEMÁTICO

4. Completa la tabla.


	Dividendo	Divisor	Cociente	Resto
558:2				
720:5				
968:8				

5. Calcula la mitad de cada uno de los siguientes números.

46	482	644	350	78

6. Realiza estas divisiones.

457: 41= 738: 32= 5.329:23= 4.697:21=



YA FALTA MENOS PARA VOLVERNOS A ENCONTRAR, UN ABRAZO, DAVINIA.