



FICHA 2: EL RELOJ. HORAS, MINUTOS Y SEGUNDOS 4º PRIMARIA



C.P.E.I.P Sagrado Corazón de Jesús
@ sacorje@cevsagradocorazonarucasur.es
WEB: sagradocorazonarucas.es

C/ El Pino 3, CP 35400 (ARUCAS)


Tfno. 928 60 10 36

Nombre: _____


1. Dibuja o escribe la hora en los siguientes relojes.




:



23: 35



:



18: 15

2. Completa.

2 h = _____ min

3 h 12 min = _____ min

14 min = _____ s

1 h 8 min = _____ s

4 h = _____ s

10 min 12 s = _____ s

240 s = _____ min

5 h 30 s = _____ s

1 día = _____ min

3 día 2 h = _____ h

300 minutos = _____ h

15 min 45 s □ _____ s

3. Mateo ha ido con su padre a una ONG a entregar los juguetes que ya no usa para que los puedan disfrutar otros niños. El horario de atención al público es de 9:30 a 13:00 y de 15:30 a 20:00, de lunes a viernes, y los sábados de 10:15 a 15:00 horas.

a) Si son las 14:55 del martes, ¿cuánto tiempo falta para que abran?

b) ¿Cuánto tiempo abren por las mañanas de lunes a viernes? _____ ¿Y en todo el día? _____

c) ¿Cuánto tiempo abren más tarde los sábados? _____